

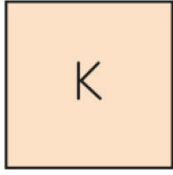
2.SINIF MATEMATİK ÖDEVİ



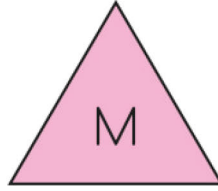
• TARTMA

KİLOGRAM İLE İLGİLİ PROBLEMLER


Aşağıdaki şekilleri ve belirttiği kiloları inceleyin. Soruları buna göre yanıtlayın.



8 kilogram

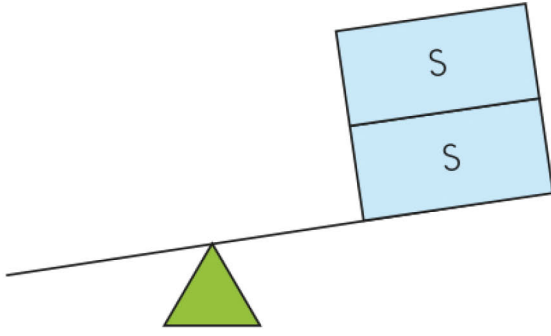


4 kilogram



12 kilogram

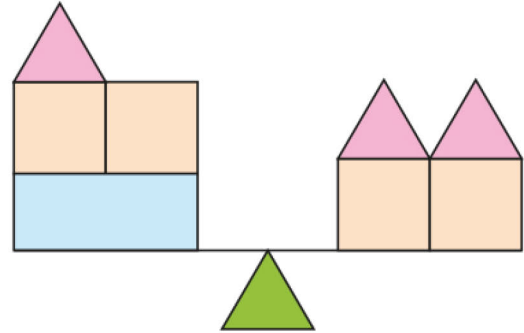
SORULAR



1 Teraziyi dengelemek için kaç kilograma ihtiyacınız var?

Teraziyi dengelemek için kare ve üçgen ağırlıklardan kaç tane kullanabilirsiniz?

2 Terazinin hangi kefesi aşağıya iner, neden?
Teraziyi dengelemek için diğer kefenin kaç kilograma ihtiyacı var?



3 Terazinin hangi kefesi yukarıya kalkar, neden?

Teraziyi dengelemek için sağdaki kefedeki kilogram azaltmak gerekir?

